



التاريخ

الصف

الإسم

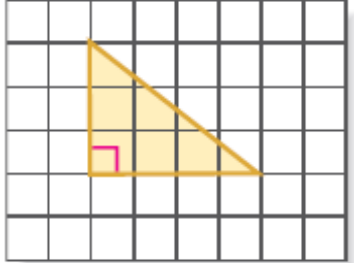
مساحة المثلث

الهدف : أن يوجد الطالب مساحة مثلث

1 أوجد مساحة كل مثلث فيما يأتي :


..... = مساحة المثلث

..... =



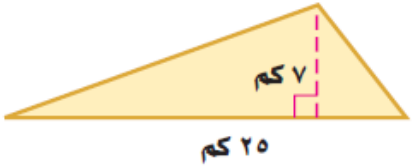
..... = مساحة المثلث

..... =



..... = مساحة المثلث

..... =



2 حرف يدوية : صنعت هند صندوقا ورقيا مثلثي الشكل كما في الشكل المجاور . ما مساحة وجهه العلوي ؟

➤ مساحة وجه الصندوق العلوي =

.....

.....

اعداد محمد عبد الرضا العريبي

