



التاريخ

الصف

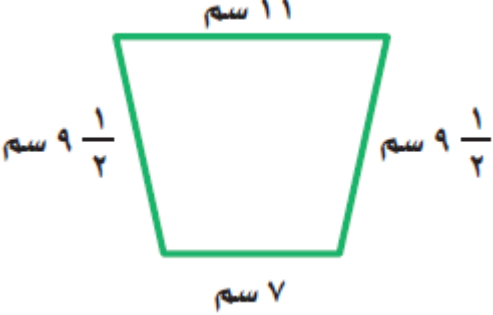
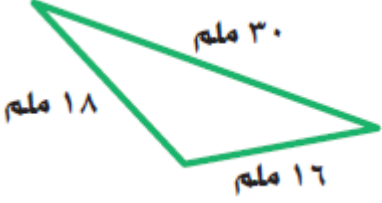
الإسم

محيط مضلع

الهدف: أن يوجد الطالب محيط مضلع

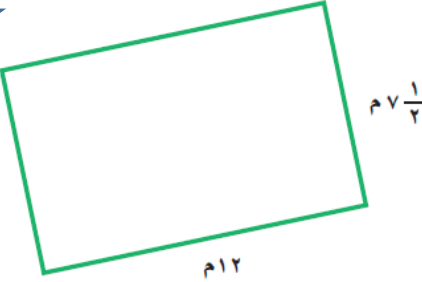

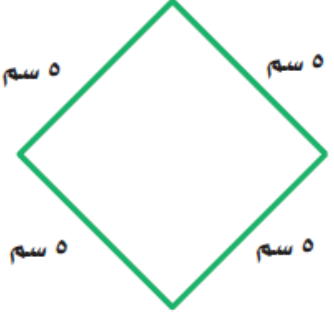
1 أوجد محيط كل مضلع مما يأتي :



		المضلع
		المحيط

2 أوجد محيط كل مربع أو مستطيل مما يأتي :



3 حديقة مستطيلة الشكل طولها ٣٢ مترًا وعرضها ١٤ مترًا . أوجد طول

السياج اللازم لإحاطتها ؟



اعداد محمد جعفر