



فعلية رمضان احكام مع الرياضيات

أسامة محمد محمد ابيوني
١ اعدادي ٣

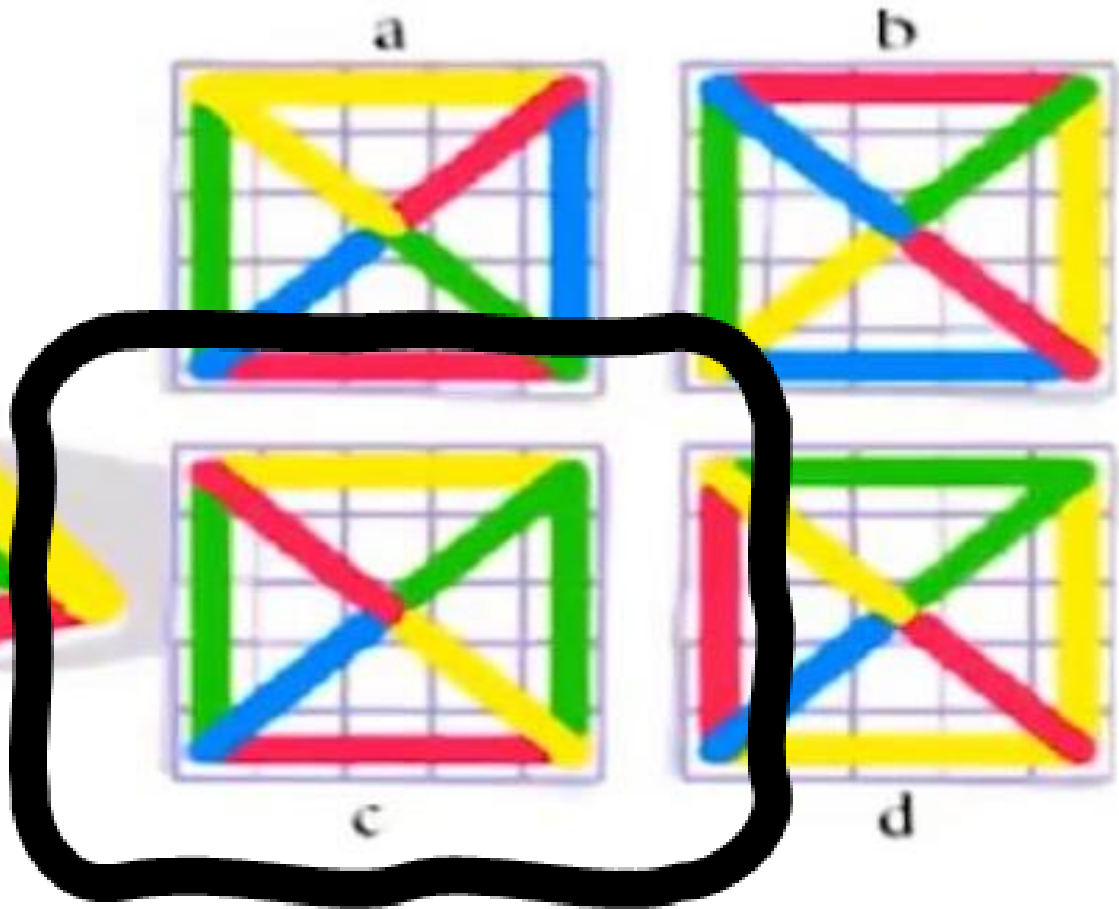
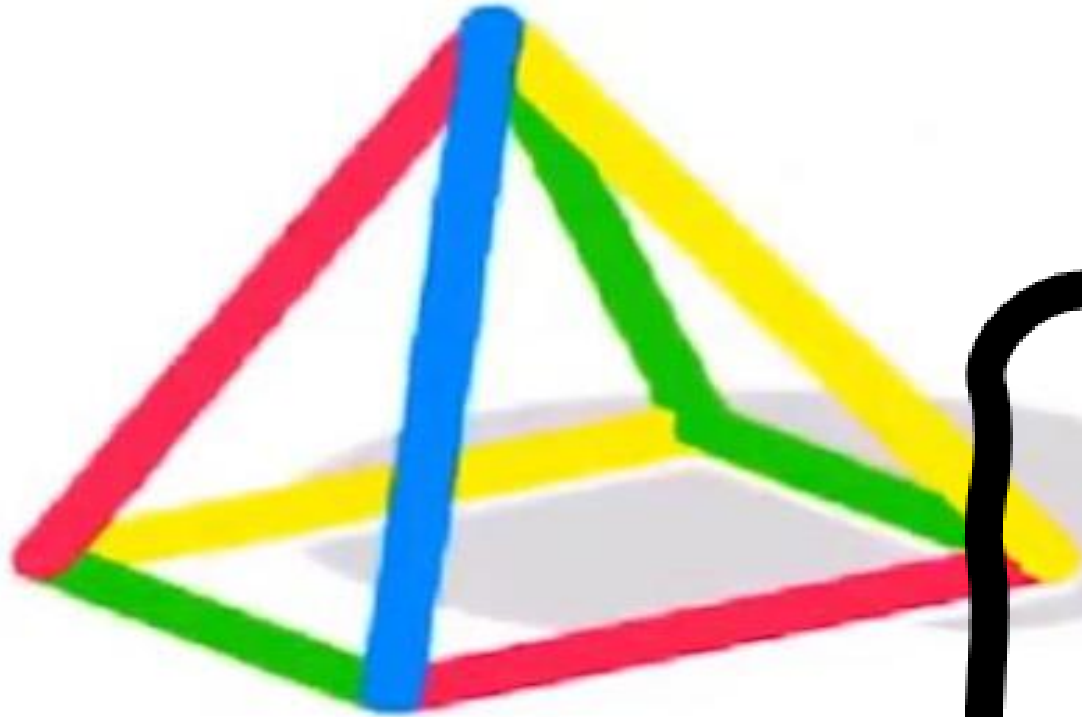
[https://dashboard](https://dashboard.blooket.com/dashboard)

[.blooket.com/das](https://dashboard.blooket.com/dashboard)

[hboard](https://dashboard.blooket.com/dashboard)



المنظر العلوي

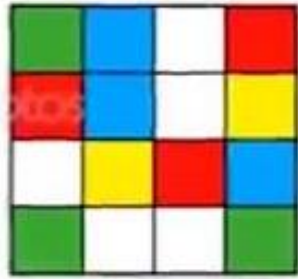


أسامة البسيوني

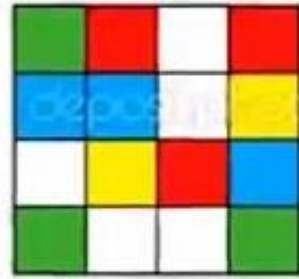




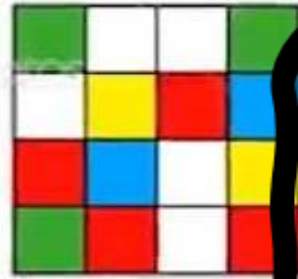
المنظر العلوي



1




2



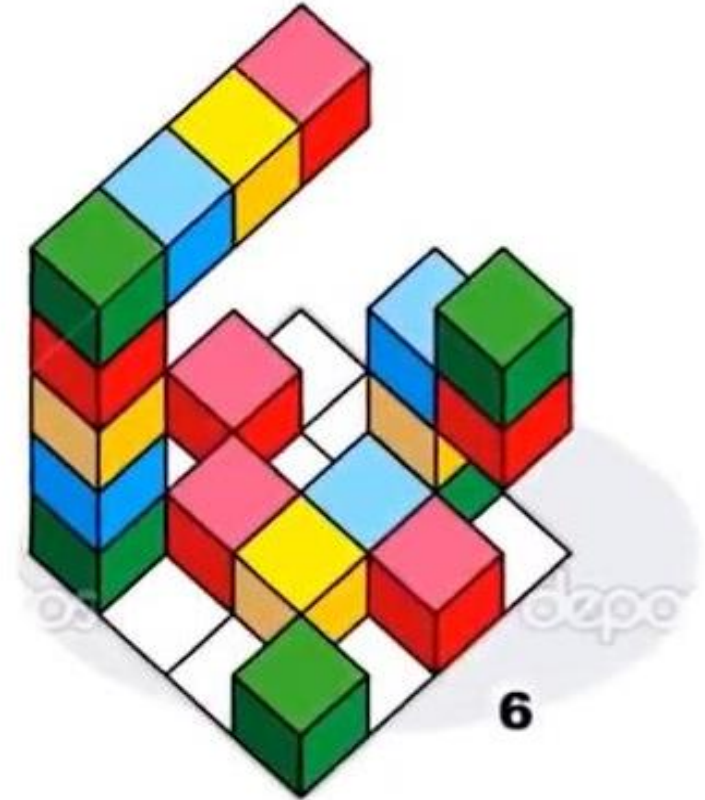
3



4



5

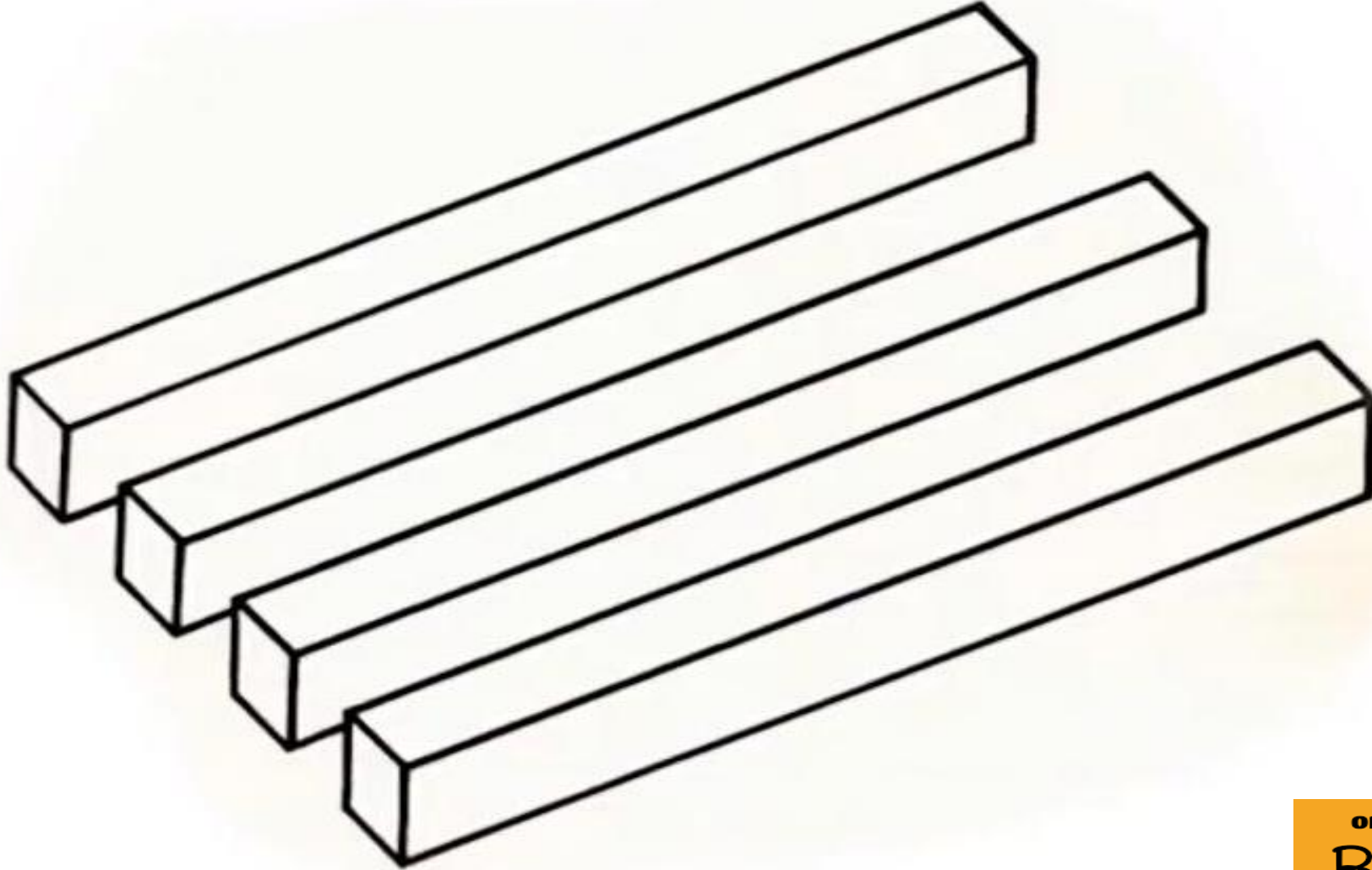


6

أسامة البسيوني

٣

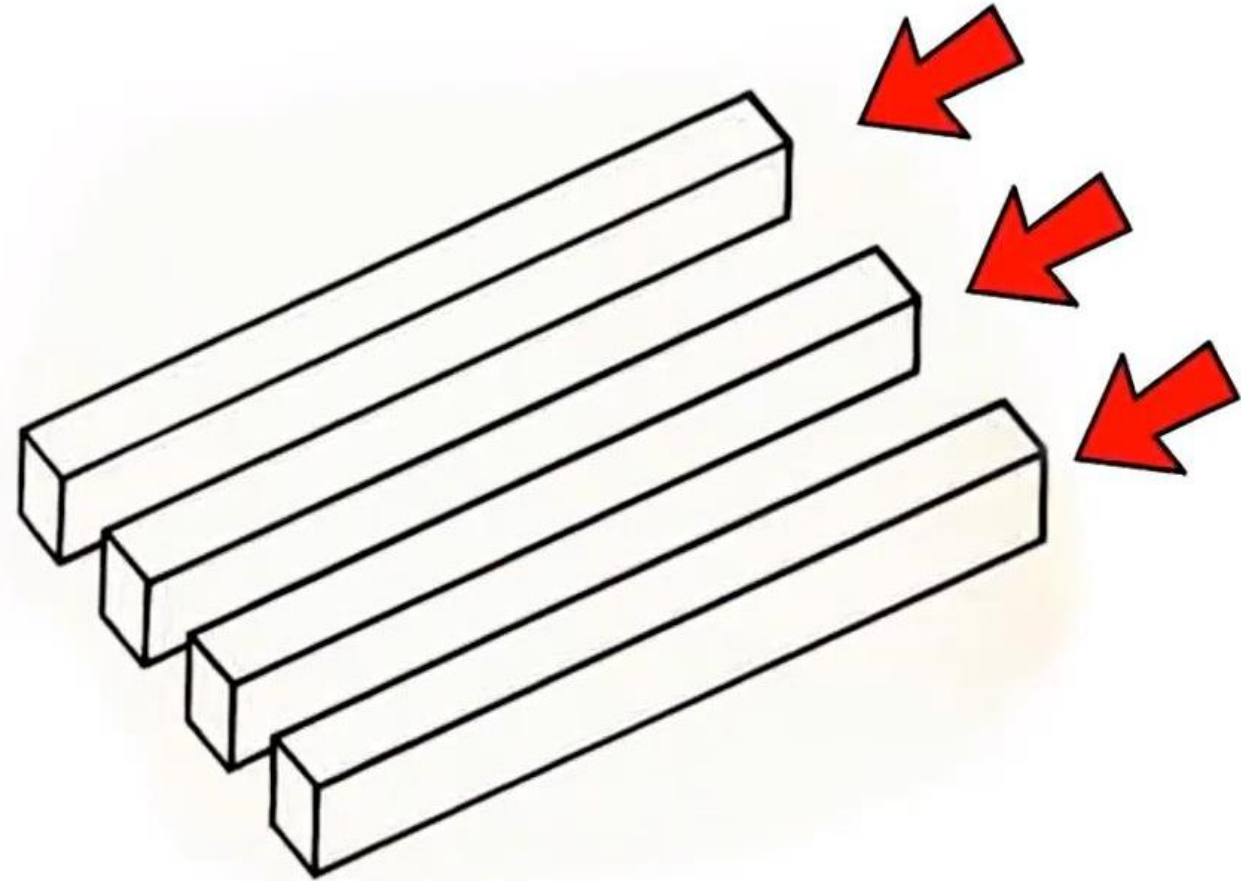
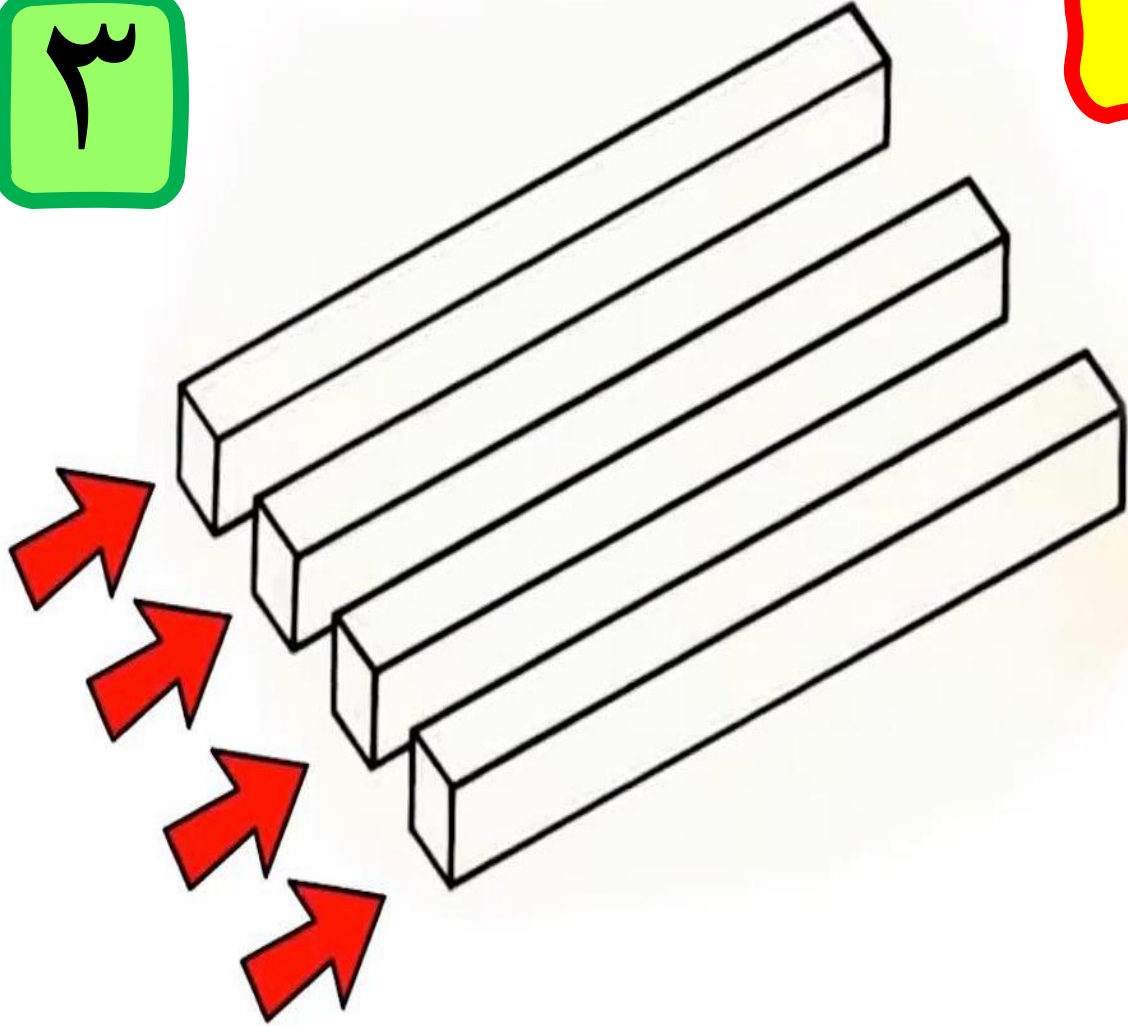
كم عامود في الصورة



أسامة البسيوني

كم عامود في الصورة

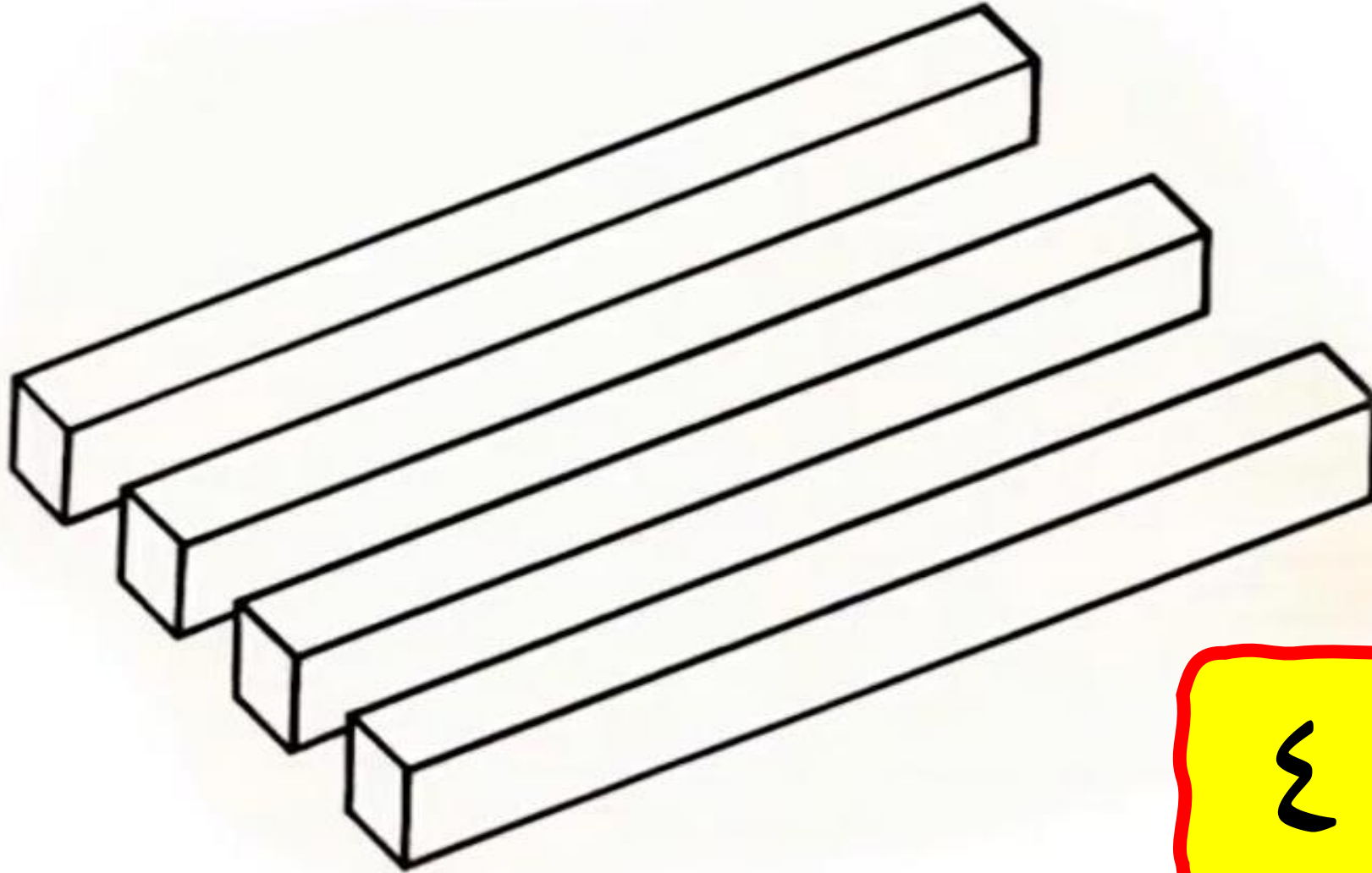
٣



أسامة البسيوني

٣

كم عامود في الصورة




٣ أو ٤

أسامة البسيوني

كم قدم للفيل

٤



أسامة البسيوني


OH EM GEE, GUYS

BLOOKET!!!



٤

كم قدم للفيل




١

أسامة البسيوني

٥

كم حيوان

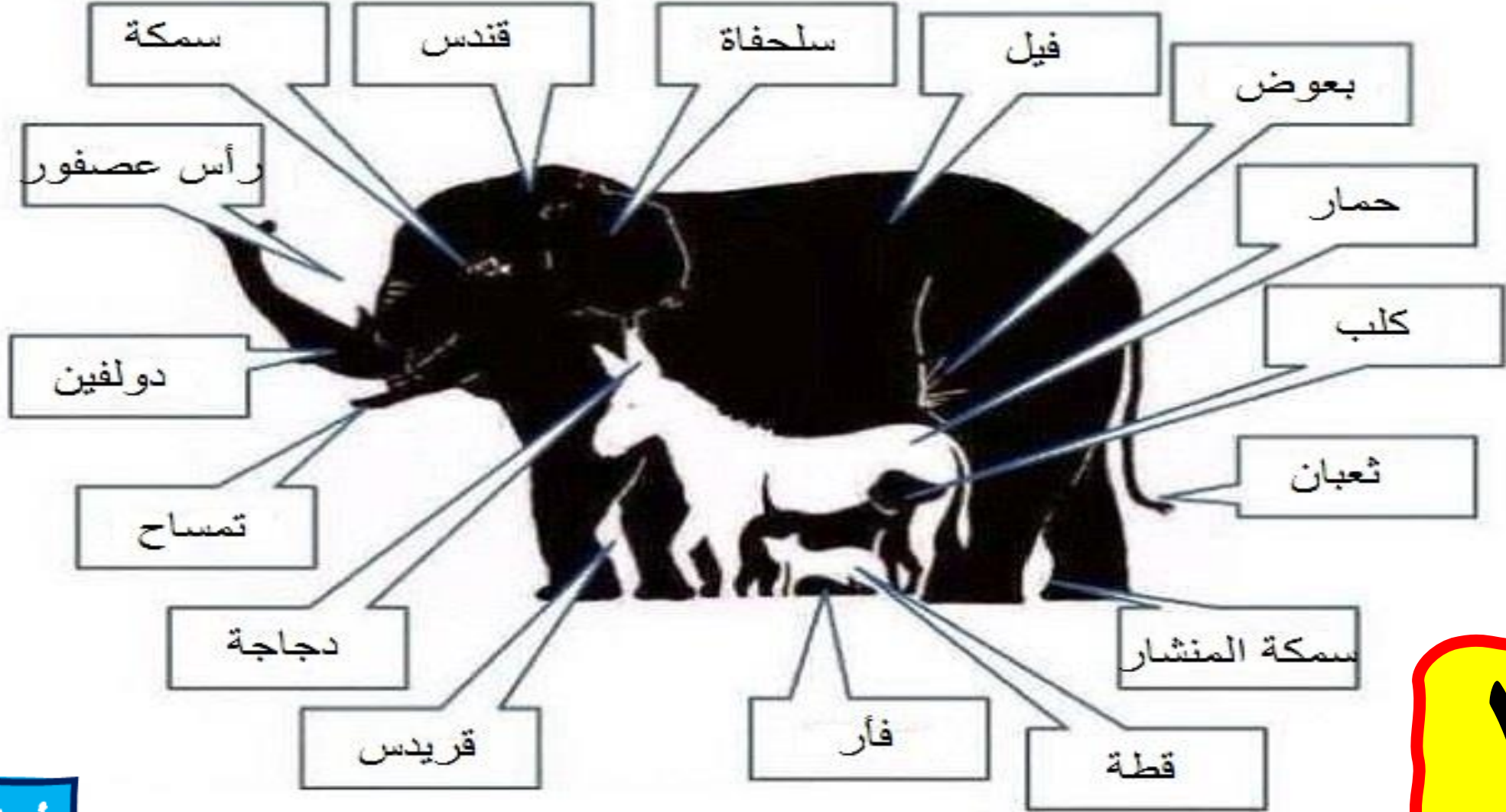


أسامة البسيوني

OH EM GEE, GUYS
BLOOKET!!!


٥

كم حيوان



١٦

أسماء البسيوني

أبيض

٦

لونٌ مكوّنٌ من 4 حروف
آخر حرف هو (ض)

OH EM GEE, GUYS

BLOOKET!!!



أسامة البسيوني



أوجد الرقم

784

أسامة البسيوني



الرقم

5 3 4 6



OH EM GEE, GUYS

BLOOKET!!!



أسامة البسيوني

الرقم

٩

9 = #

٩ =

#

1 =

+

أسامة البسيوني

OH EM GEE, GUYS

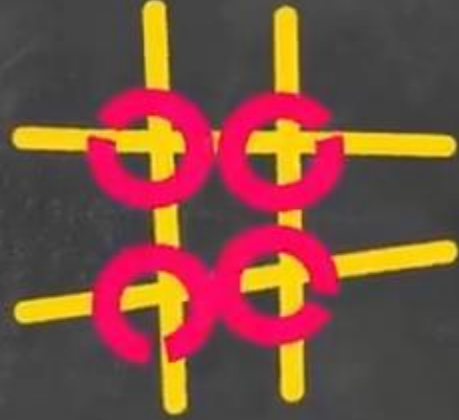
BLOOKET!!!




٩

الرقم

4 =



9 =



1 =



أسامة البسيوني

الرقم

$$1 + 1 + 1 + 1 + 1$$

$$1 + 1 + 1 + 1 + 1$$

$$1 + 1 \times 0 + 1 = ?$$

أسامة البسيوني

OH EM GEE, GUYS

BLOOKET!!!



الرقم

$$1 + 1 + 1 + 1 + 1$$

$$1 + 1 + 1 + 1 + 1$$

$$1 + 1 \times 0 + 1 = 12$$

ما الجواب الذي حصلت عليه؟

الرقم

$$1 + 1 + 1 + 1 + 1$$

$$1 + 1 + 1 + 1 + 1$$

$$1 + 1 \times 0 + 1 = 1$$

لسوء الحظ
هذا ليس صحيح

الرقم

$$\begin{aligned} &1 + 1 + 1 + 1 + 1 + 1 + 1 \\ &+ 1 + 1 + 1 + 1 + 1 + 1 \\ &+ 1 \times 0 + 1 = 30 \end{aligned}$$

أسامة البسيوني

١١

النتيجة

$$\text{Two shoes} + \text{Two shoes} + \text{Two shoes} = 30$$

$$\text{Two shoes} + \text{Angry man} + \text{Smiling man} = 20$$

$$\text{Smiling man} + \text{Two guns} + \text{Two guns} = 13$$

$$\text{One shoe} + \text{Smiling man} \times \text{One gun} = 10$$

Mi Comm
c.mi.com

١٥

أسامة البسيوني

١٢

النتائج

أحد عشر ألفاً وأحد
عشر مائة وأحد عشر



أسامة البسيوني

OH EM GEE, GUYS

BLOOKET!!!



١٢

النتائج

أحد عشر ألفاً وأحد
عشر مائة وأحد عشر

12,111

$$12,111 = 11 + 1,100 + 11,000$$

أسامة البسيوني

١٣


السيارة



أسامة البسيوني

١٣

السيارة



أسامة البسيوني

١٣

السيارة



2 =



3 =



6 =



أسامة البسيوني

١٤



9\$



36\$



27\$

٣٤



\$

أسامة البسيوني

OH EM GEE, GUYS
BLOOKET!!!

١٤



9\$



36\$



27\$

١٤



18\$

أسامة البسيوني

كل قدم تساوي (٤,٥\$)

١٥

اي عود سيتغير



أسامة البسيوني


OH EM GEE, GUYS

BLOOKET!!!



١٥


اي عود سيتغير



أسامة البسيوني

١٦

تلميح في الأحاد ١



أسامة البسيوني

OH EM GEE, GUYS

BLOOKET!!!



١٦

تلميح في الأحاد ١

3-
141
4x

The diagram shows the number 141 in white on a dark background. A yellow bracket is positioned above the number, spanning from the top of the first '1' to the top of the second '1', with a '3-' label above it. A pink bracket is positioned below the number, spanning from the bottom of the first '1' to the bottom of the second '1', with a '4x' label below it.

أسامة البسيوني

١٧

ما الرقمان ١-٩

$$? + ? = ??$$

$$? \times ? = ?$$

أسامة البسيوني

OH EM GEE, GUYS

BLOOKET!!!



١٧

ما الرقمان ١-٩

$$10 = 9 + 1$$

$$9 = 9 \times 1$$

١٨

جرب الأرقام

$$(?) = 8 / 4 \times (? + ?)$$

أسامة البسيوني

OH EM GEE, GUYS

BLOOKET!!!



١٨

جرب الأرقام

$$(?) = 8 / 4 \times (? + ?)$$

أي رقم

١٩

كم عمر الأب (ركز)

عمري أربعة أضعاف عمر
ولدي الآن. وبعد 20 سنة،
سأبلغ ضعف عمره

أسامة البسيوني

OH EM GEE, GUYS

BLOOKET!!!



١٩

كم عمر الأب (ركز)


عمري 40 سنة

ابني 10 سنوات



أسامة البسيوني

٢٠



التحدي
الأكبر
من
سيحل

أسامة البسيوني

٢٠



التحدي
الأكبر
من
سيحل

أسامة البسيوني

شهادة تكريم للطالب الحاصل المركز الأول في
المسابقة

شهادة تكريم للطالب المجاوب عن سؤال التحدي

شهادة تكريم للطالب الأكثر تفاعلا في الفعالية

تھا نینا

للطالب :



تَهانينا

للطالب : أ



شهادة شكر

للطالب : أ

